


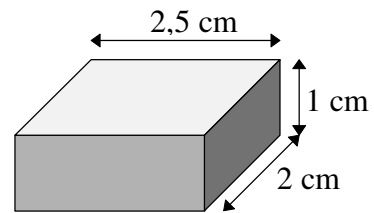


## ARBEITSBLATT ZUM THEMA ABWICKLUNGEN

**Aufgabe 1:** Welche der drei Figuren sind Abwicklung eines Quaders?



**Aufgabe 2:** a) Zeichne zwei verschiedene Abwicklungen der rechts abgebildeten Quaders.



b) Zeichne zwei verschiedene Abwicklungen eines Quaders mit den Kantenlängen 1,5 cm; 1,5 cm und 3 cm.